

平成30年度出題問題③ [上級問題] (高校生・一般向き)

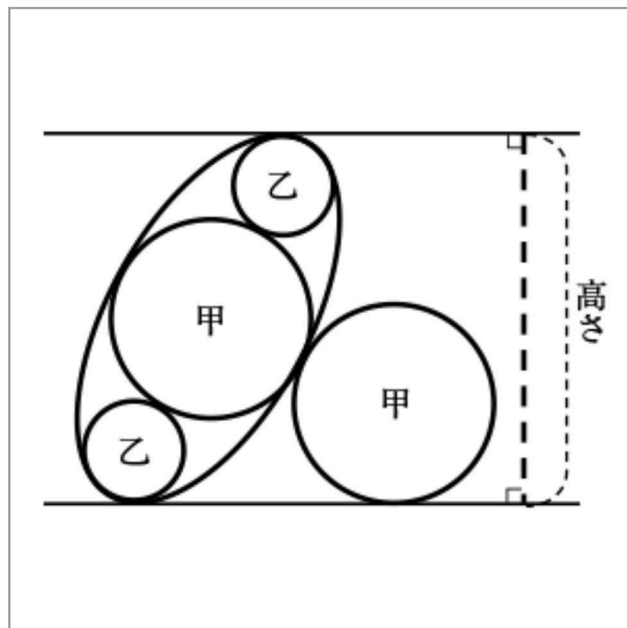
・岩手県一関市の観音寺に弘化4年(1847)に奉納された算額の問題をもとにしました。

2つの甲円の直径と楕円の短軸の長さは等しく、楕円と2つの甲円は1点で接しています。

乙円は楕円の長軸の端点における曲率円で、楕円内の甲円と外接しています。

楕円の接線は、楕円と甲円の共通接線に平行です。

平行線の距離(高さ)を乙円の直径を用いて表しなさい。



○審査員講評

一関市博物館から東へ3kmほどのところ、東北自動車道一関ICの近くにある赤荻観音寺に奉納された現存算額をもとにした問題です。当地周辺の算額(現存または文献・記録)には、楕円の問題が多数あります。

上級問題の応募数は115件、正答は88件で、正答率はやや低くなりました。年代別の割合でみると、例年の傾向ですが、20~40歳代が少なく、50代以上が多い結果となりました。

感想の中には、「曲率円についてインターネットで調べた。」「曲率円を幾何的にとらえる方法が思いつかず、解析的なアプローチを中心に解答してみた。」とありました。現代では、曲線の「曲率、曲率円、曲率半径」などは大学初年級の微分積分で履修しますが、和算でも曲率円は扱われ、算法助術〔長谷川善左衛門弘 山本安之進賀前編 天保12年(1841年)〕八十六では、楕円の長軸の端点での曲率円の直径を「極小径」、楕円の短軸の端点での曲率円の直径を「極大径」といっています。観音寺の算額では「至極乙円」となっています。

寄せられた解答は、曲率半径を求めるために、次の方法をとっていました。

①判別式を用いる。

②曲率半径を求める公式 $\frac{[1 + (f')^2]^{\frac{3}{2}}}{f''}$ を用いる。

③円柱に内接する球を斜断する方法を用いる。(この方法による解答は少ない)

誤答としては、乙円径の無理数倍となるものがみられました。

楕円の長軸、短軸の端点での曲率円についての参考文献として、

・『鹽竈神社 算額解義』監修：土倉 保（東北大学名誉教授）、編集：菅原 通、H26 発行

・『新解説・和算公式集 算法助術』土倉保編著、朝倉書店、H26 発行

などがありますのでご覧下さい。

今年度は、昨年度同様楕円についての問題でした。「12月1日が近づくと気持ちがワクワク、ソワソワしてしまう。なんでこんなに待ち遠しいのだろう。」「この時代の数学者がどのようにして問題を解くか、とても興味があります。まだ一関市博物館に行ったことがないので、ぜひ機会をみつけて行きたいと思います。」と感想を書いていただいた方もいました。できるだけ多くの方々が和算文化にふれることができるよう、岩手県や一関市に縁のある和算問題を提供していきたいと思います。挑戦者の素晴らしい解答は解答例に載せさせて頂きました。毎回賞の選定には苦慮しますが、なるべく未受賞者で、簡潔で明快に解法が展開されているものを選定させて頂きました。寄せられた答案から、挑戦者のファイトを感じながら審査をさせて頂きました。皆様とともに勉強すべく更に努力してまいりますので今後ともよろしくお願いたします。

○ 解答例

【補助定理1】

長軸の長さ $2a$ ，短軸の長さ $2b$ の楕円の長軸の端点での曲率半径を r とすると， $r = \frac{b^2}{a}$

【証明】

右図のように，円 $O_1(r)$ が 円 $O_2(R)$ に点 A で内接しているとする。
このとき $0 < \alpha < 1$ として円 O_2 を直線 O_1O_2 の両側垂直方向に α 倍すると，楕円ができ，中心は O_2 ，長軸の長さは $2R$ ，短軸は $2\alpha R$ である。

円 O_1 の直径 AB 上の任意の点 D をとって， $\overline{AD} = x$ とする。

D を通り直線 AB と垂直な直線が円 O_1 ， O_2 の円周と交わる点を図のように順に E ， F とする。このとき，方巾の定理より

$$\overline{DE}^2 = \overline{AD} \cdot \overline{DB} = x(2r - x)$$

$$\overline{DF}^2 = \overline{AD} \cdot \overline{DC} = x(2R - x)$$

であるから，上述の α 倍してできる楕円が O_1 の内部に入らない条件は

$$\alpha \overline{DF} \geq \overline{DE} \quad \text{すなわち} \quad \alpha \sqrt{x(2R - x)} \geq \sqrt{x(2r - x)}$$

がすべての x ($0 \leq x \leq 2r$) について成立することである。

$$\text{平方して整理すれば，} \quad (\alpha^2 - 1)x + 2r - 2\alpha^2 R \leq 0$$

がすべての x ($0 \leq x \leq 2r$) で成立するといつてよい。

$\alpha^2 - 1 < 0$ だから $\alpha^2 R \geq r$ が成り立つことが必要十分条件である。

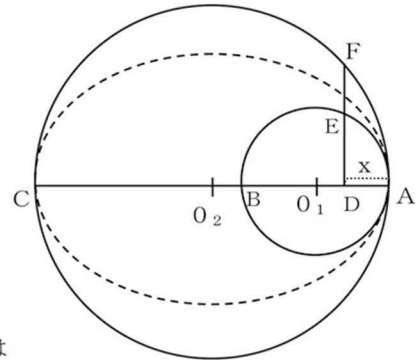
したがって， α のとりうる最小値を改めて α とすれば

$$\alpha^2 R = r$$

得られる楕円 $O_2(R, \alpha R)$ を改めて $O_2(a, b)$ と書くことにすれば，上式は $(\alpha R)^2 = rR$ と書き直せるから b^2

$$= r a$$

$$\text{すなわち} \quad r = \frac{b^2}{a}$$



【補助定理2】

右図のように，上底 a ，下底 b の等脚台形 $ABCD$ に直径 c の円が内接しているとき

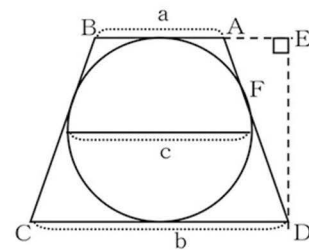
$$c^2 = a b$$

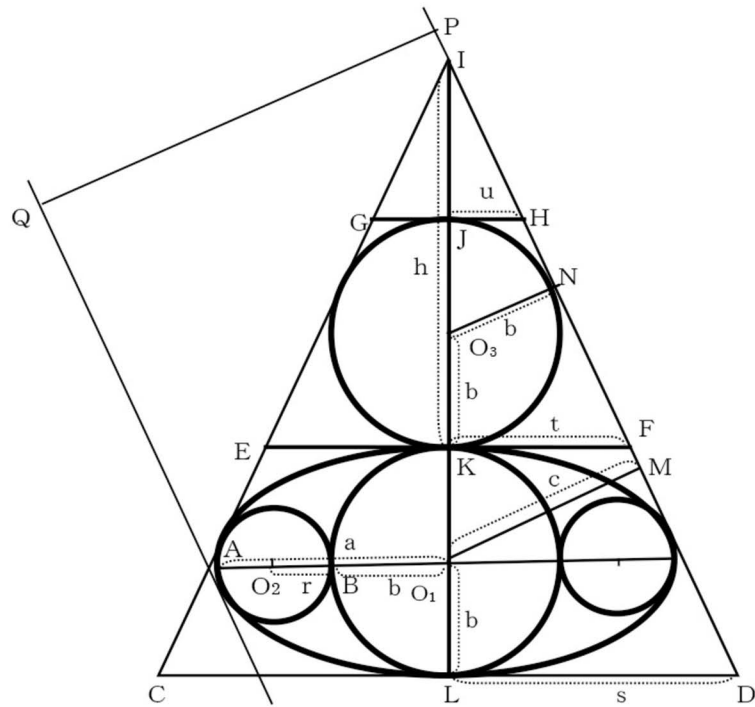
【証明】

$$\text{辺 } AD \text{ と円の接点を } F \text{ とすると} \quad AD = AF + DF = \frac{a}{2} + \frac{b}{2}$$

$$D \text{ から直線 } AB \text{ への垂線の足を } E \text{ とすると} \quad AE = \frac{b}{2} - \frac{a}{2}$$

$$\text{直角三角形 } ADE \text{ に，三平方の定理を用いると} \quad c^2 = ED^2 = AD^2 - AE^2 = \left(\frac{a}{2} + \frac{b}{2}\right)^2 - \left(\frac{b}{2} - \frac{a}{2}\right)^2 = a b$$





楕円の長軸、短軸の長さをそれぞれ $2a$ 、 $2b$ とすると、甲円の直径は $2b$ となる。乙円の直径を $2r$ とする。

【補助定理1】より $r = \frac{b^2}{a}$ ①

$O_1B = O_1A - AB$ より $b = a - 2r$ ②

②を①に代入すると $r = \frac{(a - 2r)^2}{a}$

$$a^2 - 5ar + 4r^2 = 0$$

$$(a - r)(a - 4r) = 0$$

$a \neq r$ より $a = 4r$ ③

③を②に代入すると $b = 2r$ ④

③④より $a = 2b$ ⑤

⑤より、等脚台形 $E C D F$ とそれに内接する楕円 O_1 を縦方向に2倍すれば、上底、下底はそれぞれ $2t$ 、 $2s$ のままで、内接円の直径は $2a (= 8r)$ となる。このことから、【補助定理2】を用いれば、

$$(8r)^2 = 2s \cdot 2t \quad \text{よって、} \quad st = 16r^2 \quad \dots\dots ⑥$$

等脚台形 $G E F H$ の上底、下底がそれぞれ $2u$ 、 $2t$ であり、それに内接する円 O_3 の直径は $2b (= 4r)$ であるから、【補助定理2】を用いれば、

$$(4r)^2 = 2u \cdot 2t \quad \text{よって、} \quad tu = 4r^2 \quad \dots\dots ⑦$$

⑥⑦を用いると $\frac{u}{s} = \frac{tu}{st} = \frac{4r^2}{16r^2} = \frac{1}{4}$ ⑧

$\triangle I J H \sim \triangle I L D$ より

$$\frac{u}{2} : \frac{s}{2} = (h - 2b) : (h + 2b) = (h - 4r) : (h + 4r) \quad (\because \textcircled{4})$$

$$\frac{u}{s} = \frac{h - 4r}{h + 4r} \quad \dots \dots \textcircled{9}$$

$$\textcircled{8}\textcircled{9}\text{より} \frac{h - 4r}{h + 4r} = \frac{1}{4}$$

$$h = \frac{20}{3} r \quad \dots \dots \textcircled{10}$$

$\triangle IO_3N \sim \triangle IO_1M$, $\textcircled{4}\textcircled{10}$ より,

$$\frac{b}{c} = \frac{h - b}{h + b} = \frac{h - 2r}{h + 2r} = \frac{\frac{20}{3}r - 2r}{\frac{20}{3}r + 2r} = \frac{7}{13}$$

これより

$$c = \frac{13}{7} b = \frac{13}{7} \times 2r \quad (\because \textcircled{4})$$

$$\text{高さ} = PQ = 2c = 2 \times \frac{13}{7} \times 2r = \frac{26}{7} \times 2r = \frac{26}{7} \times (\text{乙円の直径})$$

$$\text{答. } \frac{26}{7} \times (\text{乙円の直径})$$

参考 : 補助定理1の別証明 I

楕円 $\frac{x^2}{a^2} + \frac{y^2}{b^2} = 1$ ($a > b > 0$) を $x = a \cos t$, $y = b \sin t$ と媒介変数表示すると

$$\frac{dy}{dx} = \frac{dy/dt}{dx/dt} = -\frac{b}{a} \cot t,$$

$$\frac{d^2y}{dx^2} = \frac{d}{dt} \left(\frac{dy}{dx} \right) / \frac{dx}{dt} = - \left(-\frac{b}{a} \operatorname{cosec}^2 t \right) / (-a \sin t) = -\frac{b}{a^2 \sin^3 t}$$

$$(\text{曲率}) = -\frac{b}{a^2 \sin^3 t} / \left\{ 1 + \left(-\frac{b}{a} \cot t \right)^2 \right\}^{3/2} = -\frac{ab}{(a^2 \sin^2 t + b^2 \cos^2 t)^{3/2}} = -\frac{a^4 b^4}{(b^4 x^2 + a^4 y^2)^{3/2}}$$

$$(\text{曲率半径}) = -\frac{(b^4 x^2 + a^4 y^2)^{3/2}}{a^4 b^4} \quad (\text{曲率, 曲率半径は一般に絶対値をとる})$$

長軸の端での曲率半径は, $x = \pm a$, $y = 0$ とすればよいから,

$$(\text{長軸の端での曲率半径}) = \frac{b^2}{a}$$

参考 : 補助定理1の別証明 II

$$b^2 x^2 + a^2 y^2 = a^2 b^2 \quad \dots \dots \textcircled{1}$$

$$y = \pm \frac{b\sqrt{a^2 - x^2}}{a} \quad \dots \dots \textcircled{2}$$

①を微分すると

$$2b^2 x + 2a^2 y y' = 0$$

$$b^2 x + a^2 y y' = 0 \quad \dots \dots \textcircled{3}$$

$$y' = -\frac{b^2 x}{a^2 y} = -\frac{b^2 x}{a^2 \times \left(\pm \frac{b\sqrt{a^2 - x^2}}{a} \right)} = \mp \frac{b x}{a\sqrt{a^2 - x^2}}$$

$$y'^2 = \frac{b^2 x^2}{a^2 (a^2 - x^2)} \quad \dots \dots \textcircled{4}$$

③を微分する。

$$b^2 + a^2 (y'^2 + y y'') = 0$$

第2次導関数
$$y'' = -\frac{b^2 + a^2 y'^2}{a^2 y} = -\frac{b^2 + a^2 \times \frac{b^2 x^2}{a^2 (a^2 - x^2)}}{a^2 \times \left(\pm \frac{b\sqrt{a^2 - x^2}}{a} \right)} \quad (\because \textcircled{2}\textcircled{4})$$

$$= -\frac{b^2 + \frac{b^2 x^2}{a^2 - x^2}}{a \times \left(\pm b\sqrt{a^2 - x^2} \right)} = \mp \frac{a^2 b^2}{a b (a^2 - x^2)^{\frac{3}{2}}}$$

$$\therefore y'' = \mp \frac{a b}{(a^2 - x^2)^{\frac{3}{2}}} \quad \dots \dots \textcircled{5}$$


$$1 + y'^2 = 1 + \frac{b^2 x^2}{a^2 (a^2 - x^2)} = \frac{a^4 - (a^2 - b^2) x^2}{a^2 (a^2 - x^2)} \quad \dots \dots \textcircled{6}$$

$$\text{(曲率半径)} = \frac{(1 + y'^2)^{\frac{3}{2}}}{y''} = \frac{\left\{ \frac{a^4 - (a^2 - b^2) x^2}{a^2 (a^2 - x^2)} \right\}^{\frac{3}{2}}}{\left| \mp \frac{a b}{(a^2 - x^2)^{\frac{3}{2}}} \right|} = \frac{\left\{ a^4 - (a^2 - b^2) x^2 \right\}^{\frac{3}{2}}}{a^4 b}$$

長軸の端点での曲率半径は $x = a$ とすると $\frac{b^2}{a}$

上級問題

上級問題は、岩手県一関市の正慶山観音寺に弘化4年(1847)に奉納された算額の問題をもとにしました。この算額は、地元赤荻村の関流八伝の和算家、安倍(阿部)勘司の校閲により、周辺の人々14人が奉納したものです。



弘化4年奉納 観音寺算額 61×188 cm

安倍勘司の父、貞治は、千葉胤秀の高弟で天文学にも通じ、門人も多く育てています。また天保の飢饉の際には仙台藩に私財を提供し、その功績で士分に取り立てられています。長男も和算を学び、次男はこの算額が奉納された観音寺の僧、三男が勘司で、四男は医者になったといえます。勘司は、父と同様、江戸の長谷川門下に入り、そのまま江戸にとどまり大島姓を名乗りました。また九州や山梨など各地を遊歴して和算の教授にあたっています。貞治・勘司親子は、長谷川道場から最高位の免許である別伝を受けています。

上級問題は、1問めで、小野寺悦蔵良秀が作った問題です。

《現代訳》

今、図のように、線の上に甲円が側円(楕円)を挟み、乙円2個が極に至って周に容れる^い*。乙円の直径が若干とするとき、高さはいくらになるか。

※「極に至って周に容れる」は、乙円が側円に1点で接する、曲率円のことを示している。

答え 左の文の如し

術 26個を置き7で除し乙円径を乗ずれば高さに合う

算額の文面だけでは、どのように解いたのかはわかりませんが、術の文を現代の数式で表すと

$$\frac{26}{7} \times \text{乙円径} = \text{高}$$

となり、現代の解答と一致します。

術曰置二十六個七除之乘乙円径得高合問

答曰如左文

佐藤長藏直勝門人 小野寺悦蔵良秀

其乙円径若干問得高術如何

今有線上如図載以甲円挟側円周容至極乙円二个